



## Zahlen bis 100

Hallo du Zahlenzauberer, ich bin Banoo und heute erkunden wir die Zahlen bis 100. Lies jede Aufgabe in Ruhe und trag die richtigen Zahlen oder Zeichen ein – für jede richtige Lösung schnappst du dir BooStars. Bootastisch!

Z	E
3	5

  +  


Z	E
1	7

  +  

Z	E
5	2

  +  

Z	E
6	8

  +  


Z	E
9	3

  +  

Z	E
4	2

  +  

Z	E
3	9

  +  

Z	E
2	0

  +  

Z	E
8	1

  +  

Z	E
5	6

  +  

$27 = \square\square + \square$  

$54 = \square\square + \square$  

$75 = \square\square + \square$  


$36 = \square\square + \square$  


$88 = \square\square + \square$  

$91 = \square\square + \square$  


$63 = \square\square + \square$  


$20 + 1 = \square\square$  


$30 + 2 = \square\square$  

$40 + 3 = \square\square$  

$50 + 4 = \square\square$  

$60 + 5 = \square\square$  

$70 + 6 = \square\square$  

$80 + 7 = \square\square$  



Hier gibt es noch mehr!

Übungsblatt  
M202-1





## Zahlen bis 100

Hallo du Zahlenzauberer, ich bin Banoo und heute erkunden wir die Zahlen bis 100. Lies jede Aufgabe in Ruhe und trag die richtigen Zahlen oder Zeichen ein – für jede richtige Lösung schnappst du dir BooStars. Bootastisch!

Z	E
1	1

  +  

Z	E
4	3

  +  


Z	E
6	9

  +  

Z	E
7	3

  +  

Z	E
4	6

  +  

Z	E
1	9

  +  

Z	E
3	7

  +  

Z	E
9	9

  +  

Z	E
5	2

  +  

Z	E
7	4

  +  

$55 = \square\square + \square$  

$19 = \square\square + \square$  


$49 = \square\square + \square$  


$67 = \square\square + \square$  


$46 = \square\square + \square$  


$53 = \square\square + \square$  


$77 = \square\square + \square$  


$90 + 1 = \square\square$  


$80 + 2 = \square\square$  

$70 + 3 = \square\square$  

$60 + 4 = \square\square$  

$50 + 5 = \square\square$  

$40 + 6 = \square\square$  

$30 + 7 = \square\square$  



Hier gibt es noch mehr!

Übungsblatt

M202-2





## Zahlen bis 100

Hallo du Zahlenzauberer, ich bin Banoo und heute erkunden wir die Zahlen bis 100. Lies jede Aufgabe in Ruhe und trag die richtigen Zahlen oder Zeichen ein – für jede richtige Lösung schnappst du dir BooStars. Bootastisch!

$$\square \square + \square = 74 \quad \star$$

$$\square \square + \square = 14 \quad \star$$

$$\square \square + \square = 57 \quad \star$$

$$\square \square + \square = 37 \quad \star$$

$$\square \square + \square = 28 \quad \star$$

$$\square \square + \square = 46 \quad \star$$

$$\square \square + \square = 63 \quad \star$$

$$\square \square + \square = 82 \quad \star$$

$$\square \square + \square = 91 \quad \star$$

$$\square \square + \square = 55 \quad \star$$

$$10 + 9 = \square \square \quad \star$$

$$20 + 1 = \square \square \quad \star$$

$$30 + 8 = \square \square \quad \star$$

$$40 + 2 = \square \square \quad \star$$

$$50 + 7 = \square \square \quad \star$$

$$60 + 3 = \square \square \quad \star$$

$$70 + 6 = \square \square \quad \star$$

$$80 + 4 = \square \square \quad \star$$

$$90 + 5 = \square \square \quad \star$$

$$0 + 5 = \square \square \quad \star$$

Z	E
9	4

 $\square \square + \square \quad \star$

Z	E
3	5

 $\square \square + \square \quad \star$

Z	E
2	9

 $\square \square + \square \quad \star$

Z	E
7	5

 $\square \square + \square \quad \star$

Z	E
4	7

 $\square \square + \square \quad \star$



Hier gibt es noch mehr!

Übungsblatt

M202-3

