



Ungleichungen und Gleichungen

Boo! Heute lernst du Gleichungen und Ungleichungen: Manchmal ist links und rechts gleich, manchmal ist eine Seite größer oder kleiner. Setz das richtige Zeichen ein oder finde die fehlende Zahl. Du schaffst das! Bootastisch!

Setze ein: <, > oder =

$49 + 7 \quad \square \quad 55$ 

$52 - 9 \quad \square \quad 54$ 

$35 + 6 \quad \square \quad 40$ 

$22 - 8 \quad \square \quad 15$ 

$43 + 9 \quad \square \quad 52$ 

$67 - 8 \quad \square \quad 58$ 

$39 + 3 \quad \square \quad 42$ 

$75 - 7 \quad \square \quad 69$ 

$33 + 4 \quad \square \quad 36$ 

$27 - 9 \quad \square \quad 19$ 

$17 + 6 \quad \square \quad 25$ 

$81 - 2 \quad \square \quad 78$ 

$65 + 7 \quad \square \quad 74$ 

$51 - 2 \quad \square \quad 48$ 

$43 + 9 \quad \square \quad 52$ 

$11 - 2 \quad \square \quad 13$ 

$17 + 7 \quad \square \quad 24$ 

$91 - 9 \quad \square \quad 83$ 

$34 + 6 \quad \square \quad 41$ 

$51 - 5 \quad \square \quad 47$ 

$44 + 5 \quad \square \quad 48$ 

$74 - 6 \quad \square \quad 69$ 

$64 + 8 \quad \square \quad 54$ 

$39 - 8 \quad \square \quad 30$ 

$81 - 7 \quad \square \quad 75$ 



Rechne erst links und rechts aus und vergleiche dann die Ergebnisse – so findest du das richtige Zeichen sofort.

Übungsblatt

M211-1








Ungleichungen und Gleichungen


Boo! Heute lernst du Gleichungen und Ungleichungen: Manchmal ist links und rechts gleich, manchmal ist eine Seite größer oder kleiner. Setz das richtige Zeichen ein oder finde die fehlende Zahl. Du schaffst das! Bootastisch!


Setze eine richtige Zahl ein


$48 + \square < 51$ 

$27 + \square > 31$ 


$33 + \square > 35$ 


$17 + \square < 18$ 


$38 - \square < 34$ 


$74 - \square < 68$ 


$49 - \square > 43$ 


$18 - \square < 10$ 


$24 + \square < 27$ 


$90 + \square > 98$ 


$69 + \square = 75$ 


$57 + \square < 60$ 


$74 - \square < 70$ 


$44 - \square = 39$ 


$81 + \square = 87$ 


$68 + \square < 75$ 


$17 - \square < 11$ 


$38 - \square < 33$ 


$39 + \square > 47$ 


$51 + \square = 59$ 

$55 + \square < 60$ 

$48 + \square < 50$ 

$71 - \square > 66$ 

$45 - \square = 37$ 

$87 - \square > 80$ 



Bei einigen Aufgaben sind mehrere verschiedene Zahlen richtig. Das macht es einfacher.

Übungsblatt

M211-2







Ungleichungen und Gleichungen

Boo! Heute lernst du Gleichungen und Ungleichungen: Manchmal ist links und rechts gleich, manchmal ist eine Seite größer oder kleiner. Setz das richtige Zeichen ein oder finde die fehlende Zahl. Du schaffst das! Bootastisch!


Setze die richtige Zahl ein


$55 + 5 = 51 + \square$ 


$74 - 5 = 76 - \square$ 

$41 + 7 = 46 + \square$ 


$47 - 9 = 44 - \square$ 

$39 + 1 = 35 + \square$ 


$34 - 6 = 35 - \square$ 


$84 + 6 = 82 + \square$ 


$12 - 5 = 15 - \square$ 

$75 + 6 = 77 + \square$ 


$28 - 9 = 25 - \square$ 

$24 + 3 = 18 + \square$ 


$68 - 3 = 71 - \square$ 


$17 + 4 = 21 + \square$ 


$51 - 3 = 55 - \square$ 


$64 + 8 = 69 + \square$ 


$42 - 7 = 40 - \square$ 

$81 + 6 = 86 + \square$ 

$35 - 6 = 31 - \square$ 


$54 + 7 = 60 + \square$ 


$28 - 8 = 25 - \square$ 

$73 + 9 = 77 + \square$ 

$58 - 4 = 61 - \square$ 

$27 + 5 = 30 + \square$ 

$75 - 9 = 73 - \square$ 

$84 - 7 = 79 - \square$ 



Bei einer Gleichung sind beide Seiten gleich groß. Zum Beispiel:

$30 + 5 = 32 + 3 \text{ und } 55 - 6 = 52 - 3$

Übungsblatt

M211-3

