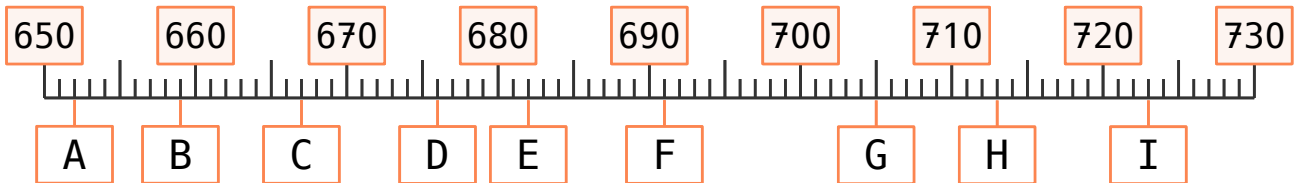




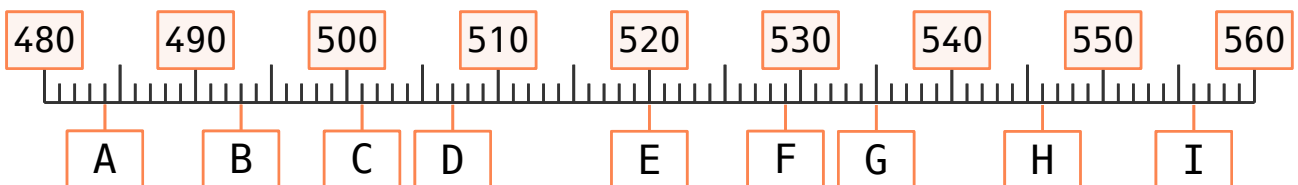
Zahlenstrahl

Auf dem Zahlenstrahl kannst du sehen, wo eine Zahl genau liegt und wie weit sie von anderen Zahlen entfernt ist. Lerne, wie sich die Zahlen Schritt für Schritt auf dem Zahlenweg bewegen.

Lese die Zahlen ab:



A:	<input type="text"/>	<input type="text"/>	<input type="text"/>		B:	<input type="text"/>	<input type="text"/>	<input type="text"/>		C:	<input type="text"/>	<input type="text"/>	<input type="text"/>	
D:	<input type="text"/>	<input type="text"/>	<input type="text"/>		E:	<input type="text"/>	<input type="text"/>	<input type="text"/>		F:	<input type="text"/>	<input type="text"/>	<input type="text"/>	
G:	<input type="text"/>	<input type="text"/>	<input type="text"/>		H:	<input type="text"/>	<input type="text"/>	<input type="text"/>		I:	<input type="text"/>	<input type="text"/>	<input type="text"/>	



A:	<input type="text"/>	<input type="text"/>	<input type="text"/>		B:	<input type="text"/>	<input type="text"/>	<input type="text"/>		C:	<input type="text"/>	<input type="text"/>	<input type="text"/>	
D:	<input type="text"/>	<input type="text"/>	<input type="text"/>		E:	<input type="text"/>	<input type="text"/>	<input type="text"/>		F:	<input type="text"/>	<input type="text"/>	<input type="text"/>	
G:	<input type="text"/>	<input type="text"/>	<input type="text"/>		H:	<input type="text"/>	<input type="text"/>	<input type="text"/>		I:	<input type="text"/>	<input type="text"/>	<input type="text"/>	



Hier gibt es noch mehr!

Übungsblatt
M302-1

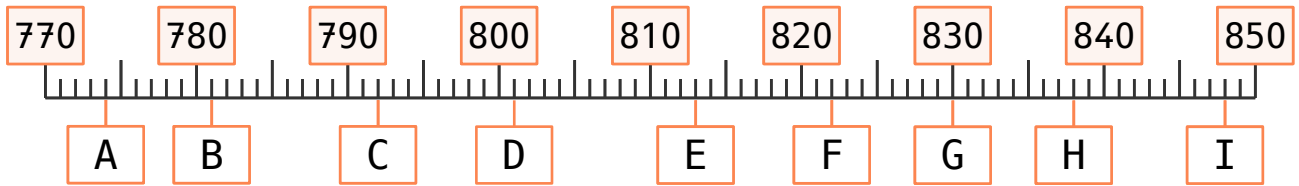




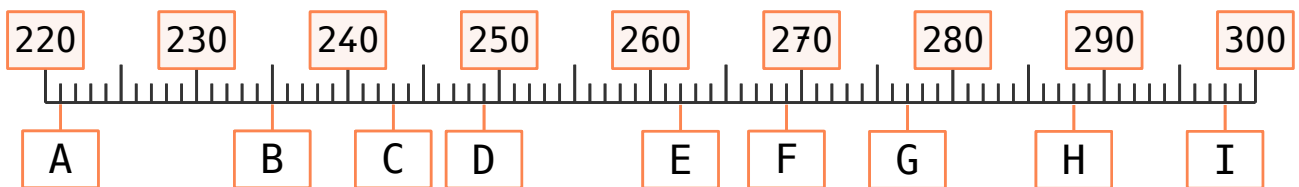
Zahlenstrahl

Auf dem Zahlenstrahl kannst du sehen, wo eine Zahl genau liegt und wie weit sie von anderen Zahlen entfernt ist. Lerne, wie sich die Zahlen Schritt für Schritt auf dem Zahlenweg bewegen.

Lese die Zahlen ab:



A:	<input type="text"/>	<input type="text"/>	<input type="text"/>		B:	<input type="text"/>	<input type="text"/>	<input type="text"/>		C:	<input type="text"/>	<input type="text"/>	<input type="text"/>	
D:	<input type="text"/>	<input type="text"/>	<input type="text"/>		E:	<input type="text"/>	<input type="text"/>	<input type="text"/>		F:	<input type="text"/>	<input type="text"/>	<input type="text"/>	
G:	<input type="text"/>	<input type="text"/>	<input type="text"/>		H:	<input type="text"/>	<input type="text"/>	<input type="text"/>		I:	<input type="text"/>	<input type="text"/>	<input type="text"/>	



A:	<input type="text"/>	<input type="text"/>	<input type="text"/>		B:	<input type="text"/>	<input type="text"/>	<input type="text"/>		C:	<input type="text"/>	<input type="text"/>	<input type="text"/>	
D:	<input type="text"/>	<input type="text"/>	<input type="text"/>		E:	<input type="text"/>	<input type="text"/>	<input type="text"/>		F:	<input type="text"/>	<input type="text"/>	<input type="text"/>	
G:	<input type="text"/>	<input type="text"/>	<input type="text"/>		H:	<input type="text"/>	<input type="text"/>	<input type="text"/>		I:	<input type="text"/>	<input type="text"/>	<input type="text"/>	



Hier gibt es noch mehr!

Übungsblatt
M302-2

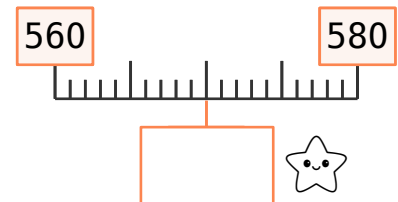
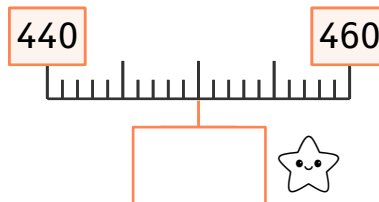
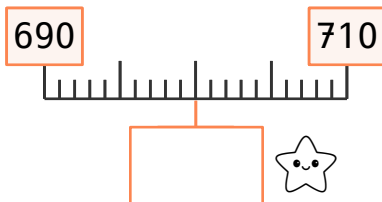
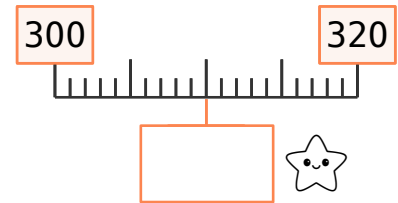
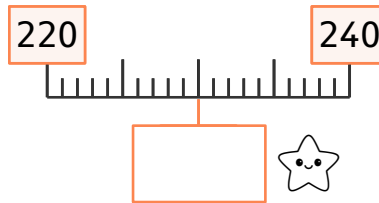
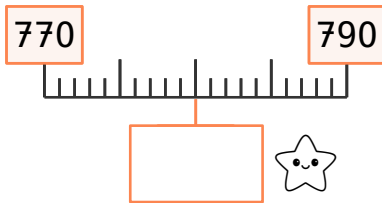




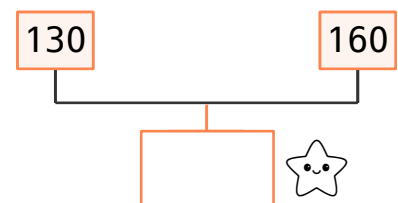
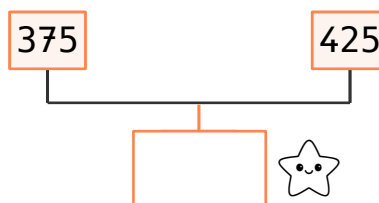
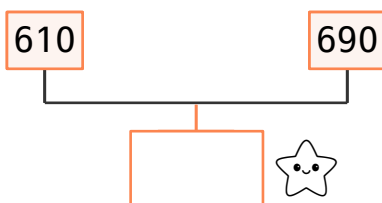
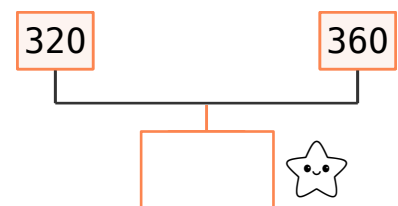
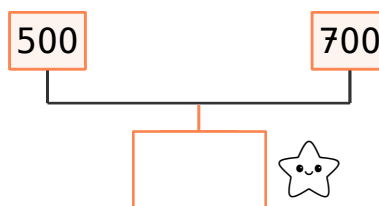
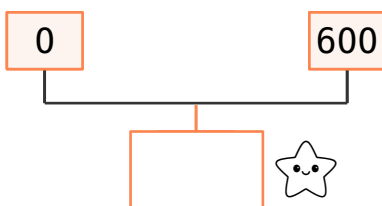
Zahlenstrahl

Auf dem Zahlenstrahl kannst du sehen, wo eine Zahl genau liegt und wie weit sie von anderen Zahlen entfernt ist. Lerne, wie sich die Zahlen Schritt für Schritt auf dem Zahlenweg bewegen.

Was liegt in der Mitte zwischen den beiden Zahlen?



Jetzt wird es etwas schwieriger. Finde die Zahl in der Mitte der angegebenen Zahlen. Schau selbst, hier musst du dich gut konzentrieren!



Hier gibt es noch mehr!

Übungsblatt
M302-3

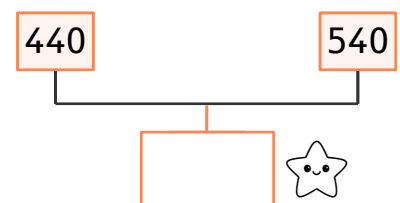
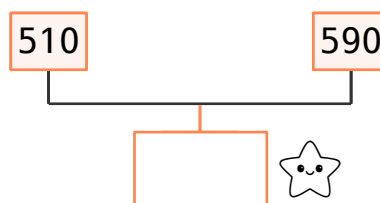
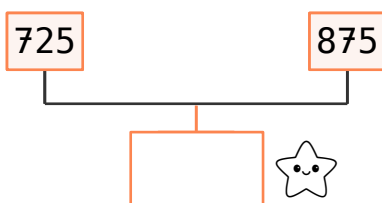
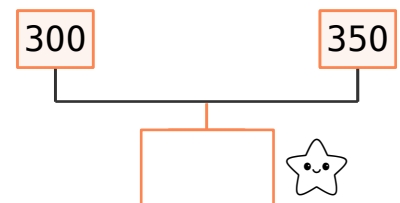
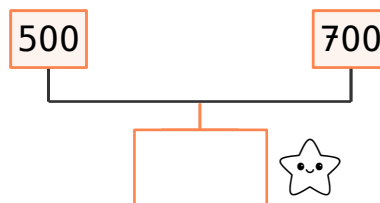
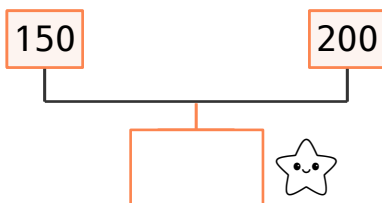
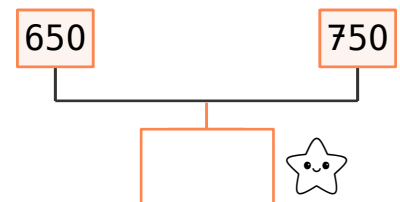
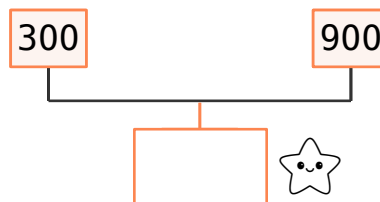
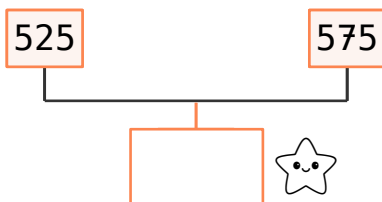
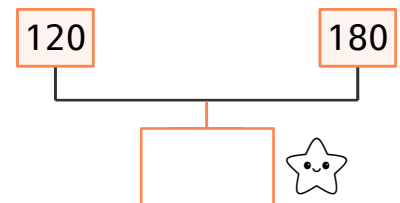
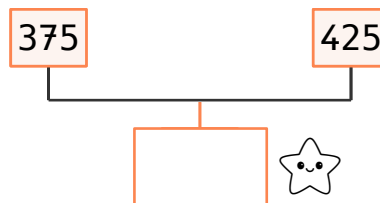
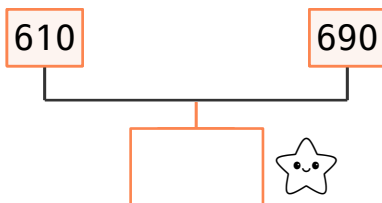
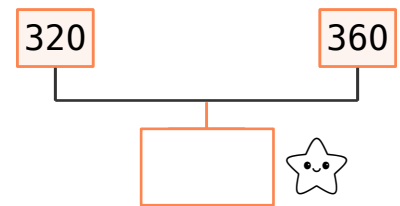
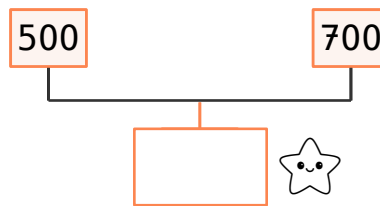
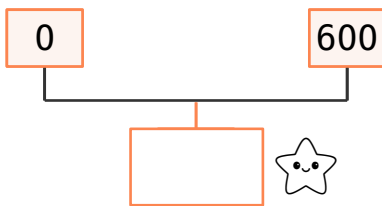




Zahlenstrahl

Auf dem Zahlenstrahl kannst du sehen, wo eine Zahl genau liegt und wie weit sie von anderen Zahlen entfernt ist. Lerne, wie sich die Zahlen Schritt für Schritt auf dem Zahlenweg bewegen.

Wenn du die Zahl genau in der Mitte zwischen zwei Zahlen finden sollst, schau dir zuerst den Abstand an und nimm dann die Hälfte davon. Gehe von der ersten Zahl diese Hälfte nach vorne – dort liegt die gesuchte Zahl.



Hier gibt es noch mehr!

Übungsblatt
M302-4

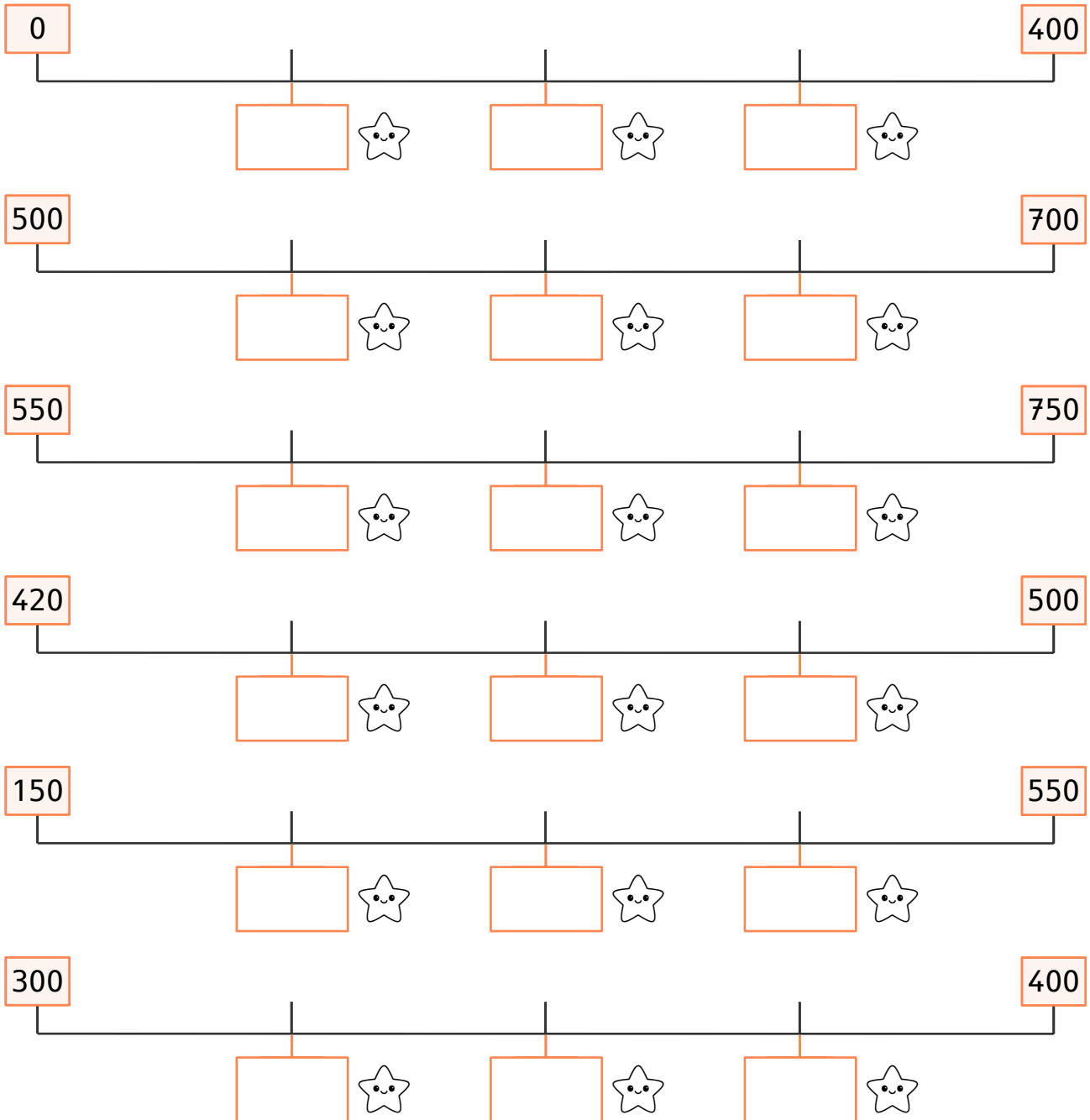




Zahlenstrahl

Auf dem Zahlenstrahl kannst du sehen, wo eine Zahl genau liegt und wie weit sie von anderen Zahlen entfernt ist. Lerne, wie sich die Zahlen Schritt für Schritt auf dem Zahlenweg bewegen.

Welche Zahlen könnten gesucht werden?



Hier gibt es noch mehr!

Übungsblatt
M302-5

